




Reproduis le quadrillage à l'identique :



Utilise la monnaie proposée pour réaliser la somme demandée :



Tu dois les dessiner
Pour chaque objet.



28€



42€

Ecoute bien ce problème et écris la réponse :

Nina fait un bouquet de 15 fleurs, mais 3 sont fanées : elle les jette.
Combien lui reste-t-il de fleurs?
