



Range les nombres du plus grand au plus petit.



Relie chaque nombre à sa décomposition.

12 ●

● 20 + 9

15 ●

● 50 + 8

29 ●

● 10 + 5

34 ●

● 10 + 2

58 ●

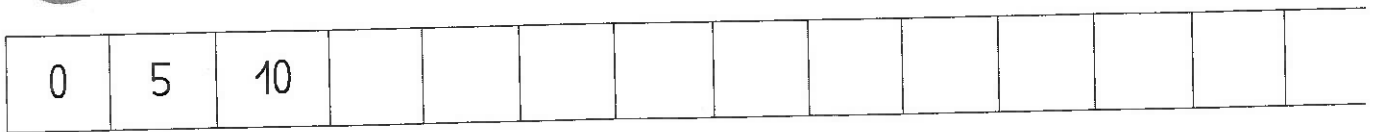
● 30 + 4

Compte...

**A** ... de 2 en 2.



**B** ... de 5 en 5.



Reproduis la figure sur le quadrillage en utilisant ta règle et ton crayon à papier.

