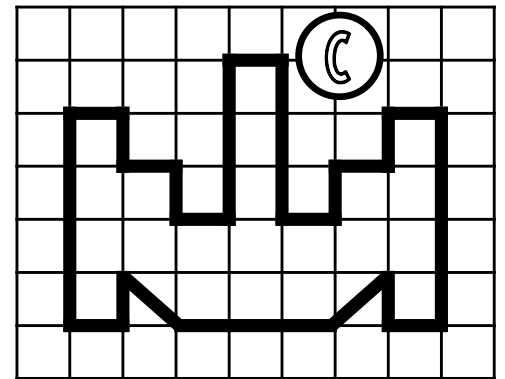
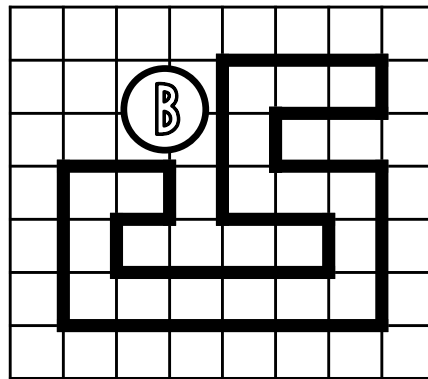
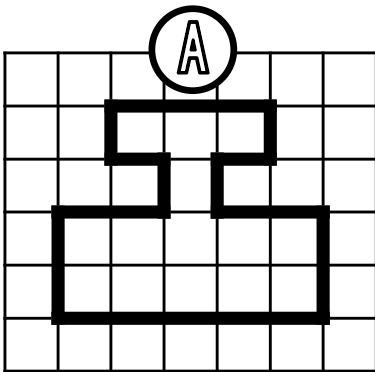


PRÉNOM :



① Exprime l'aire de chaque surface avec l'unité choisie.

 unité 1

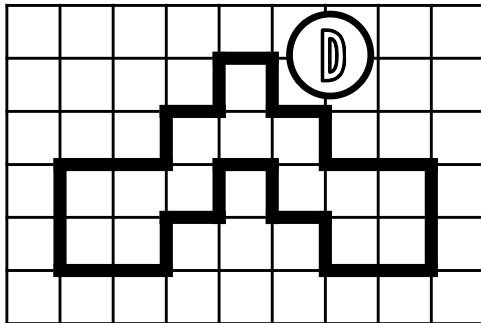


A = _____ unités d'aire

B = _____ unités d'aire

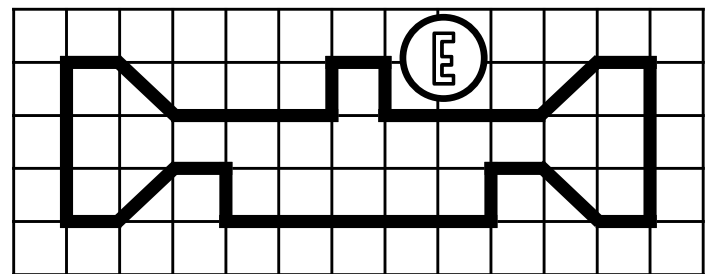
C = _____ unités d'aire

 unité 2



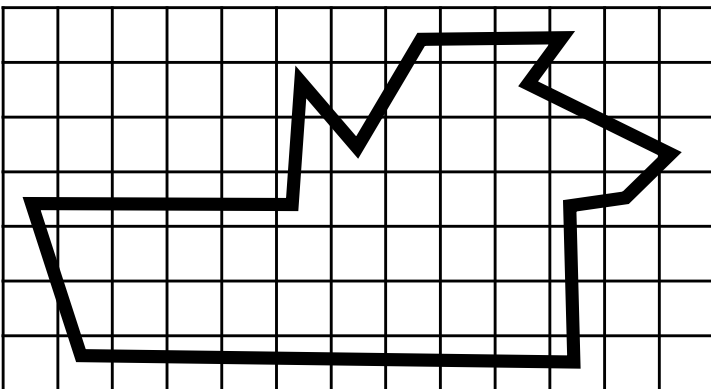
D = _____ unités d'aire

 unité 3



E = _____ unités d'aire

② Estime l'aire de cette surface.



L'aire de cette surface est comprise entre _____ carreaux et _____ carreaux.

③ Dessine 3 figures qui auront une aire de 15 unités A mais pas la même forme.

 unité A

④ Dessine 2 figures qui auront une aire de 10 unités B mais pas la même forme.

 unité B