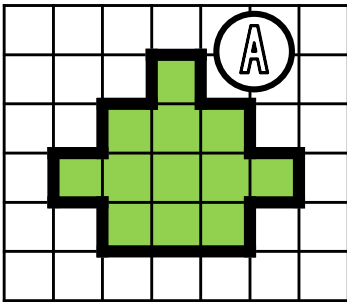
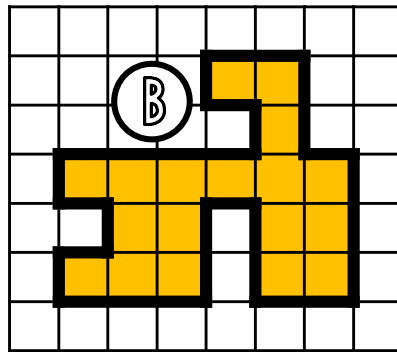


① Exprime l'aire de chaque surface avec l'unité choisie.

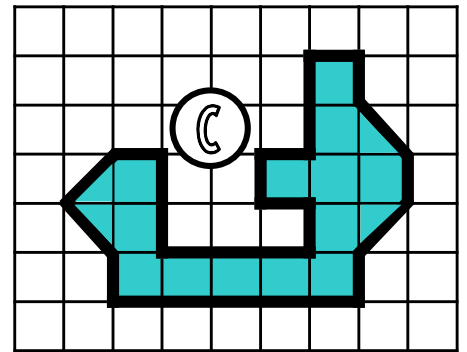
□ unité 1



A = **12** unités d'aire

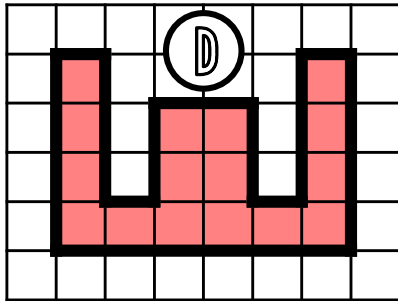


B = **18** unités d'aire



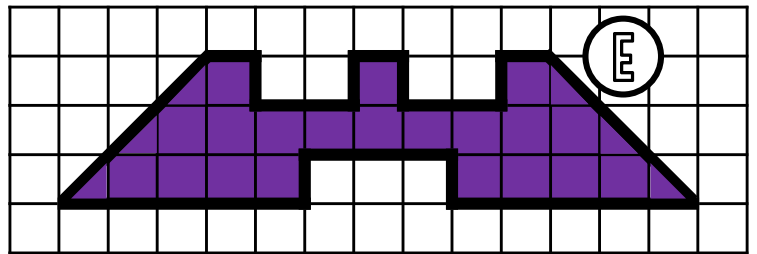
C = **15** unités d'aire

□ □
unité 2



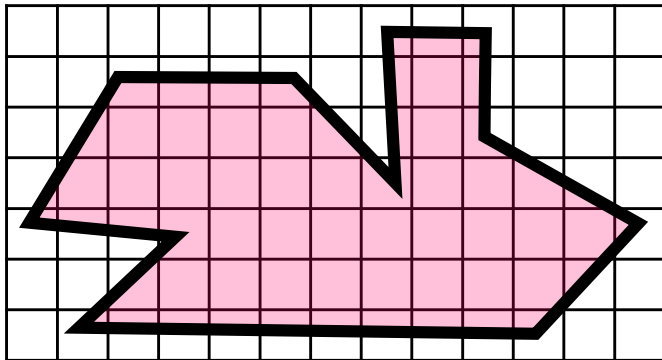
D = **8** unités d'aire

▽ unité 3



E = **46** unités d'aire

② Estime l'aire de cette surface.



L'aire de cette surface
est comprise entre **27** carreaux et **64** carreaux.

③ Dessine 3 figures qui auront
une aire de 12 unités A mais
pas la même forme.

□ unité A

④ Dessine 3 figures qui auront
une aire de 28 unités B mais
pas la même forme.

▽ unité B